

7-14, П-33 = 47

Муниципальное бюджетное общеобразовательное учреждение  
средняя общеобразовательная школа Гайтерского с. п.  
Комсомольского муниципального района Хабаровского края



Школьный этап всероссийской олимпиады школьников  
2019/2020 учебного года по технологии


0502

Маламен Елена Валерьевна

Ответ: Маламен Елена Валерьевна

б) (1 балл) Назовите 3 блюда, в рецепт которых входят хотя бы один из  
пищевых продуктов, которые встречаются в пункте а).  
Ответ: Блины, пельмени, вареники

в) (1 балл) Как называется старинный русский народный промысел,  
родившийся в XVII веке в Нижегородской губернии, который представляет собой  
декоративную роспись деревянной посуды и  
мебели, выполненных красными, желтыми и  
золотистыми тонами на светлом фоне?  
Ответ: Хохлома





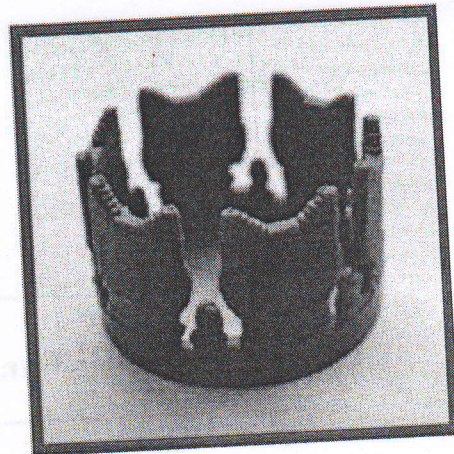
ВСЕРОССИЙСКАЯ ОЛИМПИАДА ШКОЛЬНИКОВ  
ПО ТЕХНОЛОГИИ 2019-2020 уч. год  
ШКОЛЬНЫЙ ЭТАП

Номинация «Культура дома и декоративно-прикладное творчество»  
Теоретический тур 5 класс

16+ 1. (1 балл) Как называется устройство, о котором говорится в тексте?

«Первый 3D принтер, способный работать с шоколадом, был выпущен в 2012 году. Выбор на излюбленное кондитерское изделие пал не случайно: на тот момент ни один производитель не мог похвастаться подобными разработками. Ставка на кулинарные инновации сработала: первая версия получила широкую огласку в СМИ, а тематические форумы и соцсети буквально взорвала новость о появлении пищевого, способного печатать шоколадом. Позже свет увидели усовершенствованные версии, предоставлявшие пользователям безграничные возможности персонализации кондитерских изделий»

Ответ: 3D принтер



28 2. а) (1 балл) Приведите название кулинарного термина, обозначающего съедобную часть растений, о которых говорится в стихотворении Юлиана Тувима в переводе С. Михалкова:

«Хозяйка однажды с базара пришла,  
Хозяйка с базара домой принесла:  
Картошку, Капусту, Морковку, Горох,  
Петрушку и свёклу. Ох!»

Ответ: тепловая обработка, овощи

б) (1 балл) Назовите 3 блюда, в рецепт которых входит хотя бы один из пищевых продуктов, которые встречаются в пункте а).

Ответ: винегрет, оливье, салатика

18 3. (1 балл) Как называется старинный русский народный промысел, родившийся в XVII веке в Нижегородской губернии, который представляет собой декоративную роспись деревянной посуды и мебели, выполненную красными, зелёными и золотистыми тонами по чёрному фону?

Ответ: хохлома





16 4. (1 балл) Расположите буквы в правильном порядке, разгадайте зашифрованное слово, получите название рукоделия: *а в в ы и к ш*.  
Ответ: вошьишка

16 5. а) (1 балл) Вставьте в текст песни Р. Паулса на слова А. Дмоховского название растения, используемого для производства волокна:

«Ходят волны на просторе,  
То ли поле, то ли море - синий лён  
Словно песня, словно пламя,  
Словно небо под ногами, синий лён ...»

Ответ: лён

16 б) (1 балл) Какая часть этого растения используется для производства волокна?  
Ответ: стебель

16 б. а) (1 балл) Отгадайте загадку.  
Маленькая головка на пальце сидит,  
Сотнями глаз во все стороны глядит.

Ответ: напёрсток

16 б) (1 балл) Для чего используется это приспособление?

Ответ: Чтобы не уколоть палец при шитье в ручную

16 7. (6 баллов) Творческое задание

7.1. Составьте меню обеда, включающее салат из свежих огурцов со сметаной.  
(1 балл)

16 Ответ: Суп с картофельным супом, рожки с отбивной, салат с огурцами и помидорами со сметаной, компот из яблок.

16 7.2. Перечислите продукты, которые Вам потребуются для приготовления этого обеда. (1 балл)

Ответ: 1. Картофель, картошка, лук, морковь, мясо. 2. рожки, <sup>вода</sup> мясо с приправой. 3. огурцы, помидоры, сметана. 4. яблоки, <sup>вода</sup>.

16 7.3. Перечислите оборудование, которое Вам потребуется. (1 балл)


Ответ: кастрюля, нож, тёрка, повзрешка, разделочная доска.



7.4. Опишите технологию приготовления салата. (2 балла)

18 Ответ: 1. Помыть овощи 2. почистить овощи 3. нарезать овощи 4. Взять ёмкость 5. Высыпать овощи в неё 6. заправить салат майонезом или маслом или сметаной 7. подать к столу 8. украсить.

18 7.5. Предложите сервировку стола к этому обеду. (1 балл)



Максимальный балл за все выполненные задания - 15.



ВСЕРОССИЙСКАЯ ОЛИМПИАДА ШКОЛЬНИКОВ

ПО ТЕХНОЛОГИИ 2019-2020 уч. г.

ШКОЛЬНЫЙ ЭТАП

5 класс


Номинация «Культура дома и декоративно-прикладное творчество»

Практическая работа

Выполните только ОДНО из предложенных заданий - 1 или 2.

Задание 1

Выполнение вышивки «Цветик-семицветик» (с использованием шва «вперёд иголку»)



**Задание:**

Выполните вышивку предложенного мотива, переведя его на ткань, используя шов «вперёд иголку».

**Материалы и инструменты:** ткань из хлопка светлых тонов размером 20 см х 20 см, рабочая коробочка или папка с инструментами для выполнения вышивки с пальцами, нитками мулине, иглой для вышивания, ножницами, копировальной бумагой, карандашом, утюг.







**Задание 1 Выполнение вышивки**

**Оценочная таблица**

№ п/п	Критерии оценки	Максимальный балл	Баллы по факту
1	Вышивка выполнена по контуру рисунка	8	4
2	Соблюдение длины стежков шва «вперёд иголку» (3 мм) и расстояний между ними (2 мм)	8	4
3	Качество изнаночной стороны	6	5
4	Внешний вид (гармоничная цветовая гамма, аккуратность выполненной работы)	10	10
5	Качественно выполненная влажно-тепловая обработка изделия	5	5
6	Соблюдение правил безопасной работы и правильная организация рабочего места	3	3
	<b>Всего</b>	<b>40</b>	<b>33</b>

**Задание 2**

**«Выполнение аппликации с использованием пуговиц и фетра»**

**Оценочная таблица**

№ п/п	Критерии оценки	Максимальный балл	Баллы по факту
1	Вышивка и крепление пуговиц выполнены в соответствии с предложенным образцом	5	
2	Соблюдение длины стежков шва «вперёд иголку» (3 мм) и расстояний между ними (2 мм)	6	
3	Качественное вырезание и крепление деталей цветочков к основной детали	6	
4	Качество выполнения крепления пуговиц	5	
5	Качество изнаночной стороны	6	
6	Внешний вид (гармоничная цветовая гамма подобранных ниток, аккуратность выполненной работы)	6	
7	Качественная влажно-тепловая обработка изделия	3	
8	Соблюдение правил безопасной работы и правильная организация рабочего места	3	
	<b>Всего</b>	<b>40</b>	